

## Задание 5

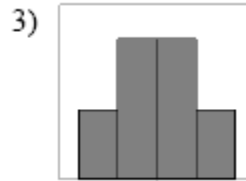
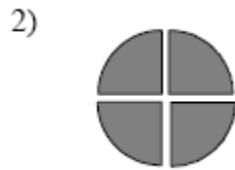
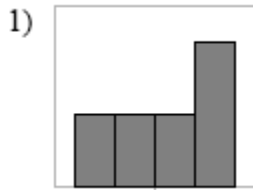
### Представление данных в электронных таблицах в виде диаграмм и графиков

#### ЗАДАНИЯ ДЛЯ САМОСТОЯТЕЛЬНОЙ РАБОТЫ

1. Дан фрагмент электронной таблицы:

	A	B	C	D
1		1	2	
2	=C1/2	=(A2+B1)/2	=C1-B1	=2*B2

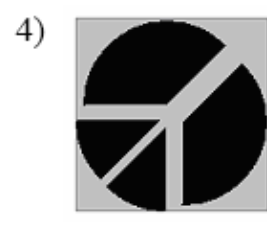
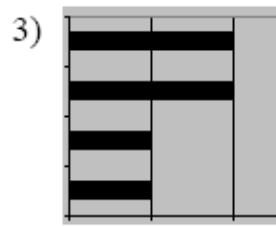
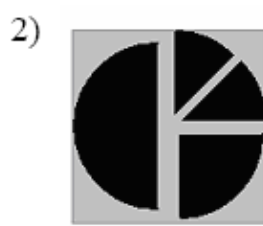
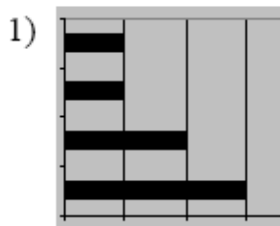
После выполнения вычислений была построена диаграмма по значениям диапазона ячеек A2:D2. Укажите получившуюся диаграмму.



2. Дан фрагмент электронной таблицы:

	A	B	C	D
1		3	4	
2	=C1-B1	=B1-A2*2	=C1/2	=B1+B2

После выполнения вычислений была построена диаграмма по значениям диапазона ячеек A2:D2. Укажите получившуюся диаграмму.



3. Дан фрагмент электронной таблицы:

	A	B	C	D
1	3		3	2
2	=(C1+A1)/2	=C1-D1	=A2-D1	=A1-2

После выполнения вычислений была построена диаграмма по значениям диапазона ячеек A2:D2. Укажите получившуюся диаграмму.

